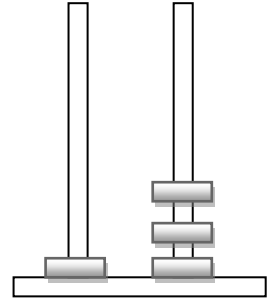
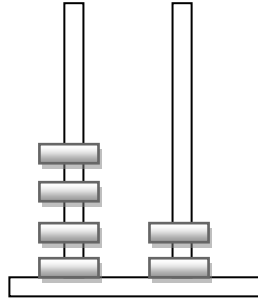
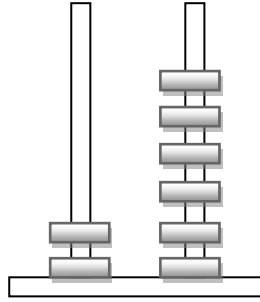
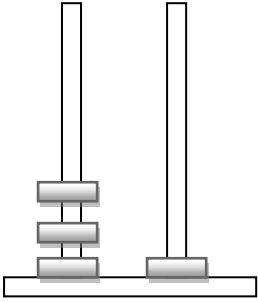


Μονάδες και δεκάδες II

Όνομα: _____

1. Αντιστοίχισε τους άβακες με τους αριθμούς που είναι στους κύκλους.



26

13

31

42

2. Βάλε σε κύκλο τα χρήματα που χρειάζεται

 5 ευρώ



 7 ευρώ



 9 ευρώ



3. Κάνε τις παρακάτω πράξεις

$27-7=$ ___	$13-3=$ ___	$18-8=$ ___
$22-2=$ ___	$36-6=$ ___	$41-1=$ ___
$17-7=$ ___	$38-8=$ ___	$32-2=$ ___
$19-9=$ ___	$25-5=$ ___	$45-5=$ ___

4. Βάλε σε κύκλο τα νομίσματα που έχουν την ίδια αξία με αυτά της πρώτης στήλης