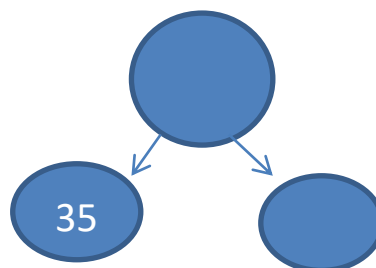
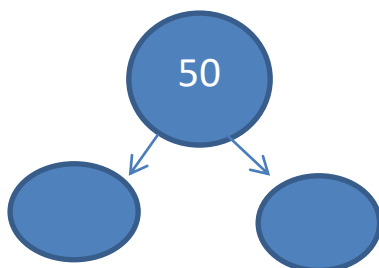
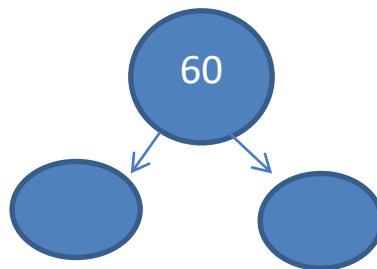
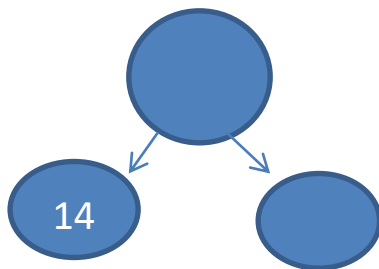
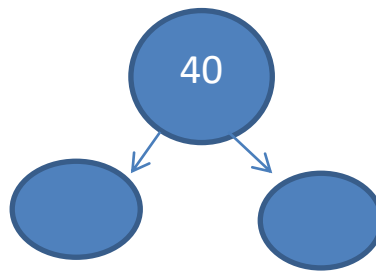
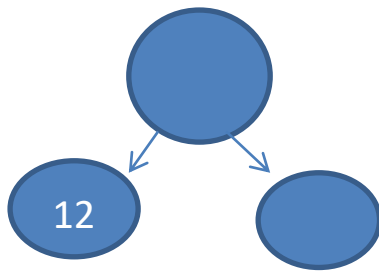


ΜΑΘΗΜΑΤΙΚΑ

1. Βρες το μισό ή το διπλάσιο κάθε φορά.



2. Η κυρία Αλεξάνδρα θέλει να φυτέψει στον κήπο του σπιτιού της 64 τριανταφυλλιές. Θα τις μοιράσει σε 2 σειρές. Πόσες τριανταφυλλιές θα φυτέψει σε κάθε σειρά;

Λύση:

Απάντηση: _____.

3. Αγόρασα ένα παραμύθι και ένα λεξικό. Το παραμύθι κόστισε €12 και το λεξικό τα διπλάσια. Πόσο κόστισε το λεξικό;

Λύση:

Απάντηση: _____.

4. Τα παιδιά της Γ τάξης είναι 45. Στο μάθημα της Γυμναστικής θέλουν να μοιραστούν σε πεντάδες. Πόσες ίσες πεντάδες θα δημιουργηθούν;

Λύση:

Απάντηση: _____.